



Top'eau Quizz Ibos



Découverte du Souy, du Mardaing et du Rieu-Tort
Distance : 4,3 km



Notice

Ce petit livret a pour objectif de découvrir les richesses naturelles des cours d'eau de la commune d'bos.

Pour se déplacer, consulter la carte au centre du livret.

Le point de départ se situe devant la mairie.

Se rendre à l'endroit où la photo a été prise et qui correspond au numéro indiqué sur la carte.

Lire les questions l'une après l'autre, attention, il peut y avoir plusieurs bonnes réponses.

Avec mon crayon, j'entoure la bonne réponse.

Puis se déplacer jusqu'au numéro suivant.

Les dessins, sur le thème : les poissons de l'Adour et ses affluents, sont réalisés par les élèves :

Alice, Boris, Eloïse, Enzo, Léa, Louna, Manon, Maxime, Théo, Camille, Chloé, Clothilde, Emma, Gaëtan, Ignace, Lylou et Robin.




1

Combien de ponts ou passerelles se trouvent sur la commune d'Ibos ?

Quantes ponts e palancas e podèm comptar dins eth vilatge d'Ibòs ?

- a) 10
- b) 25
- c) 35

ABLETTE





2

Dans un moulin à céréales, comment s'appellent les meules qui servent à broyer les grains ?

Dins un molin de cerealas, quin s'apèran eras molas de qui serveishen tà môler eths granhs ?

- a) **la roulante**
era mola rotlanta
- b) **la tournante**
era mola viradissa
- c) **la dansante**
era mola dançadissa
- d) **la dormante**
era mola dromadiva




3

Quelle est la longueur du Mardaing ?

Quina ei era longor deth Mardaing ?

- a) **8 km**
8 qm
- b) **19 km**
19 qm
- c) **27 km**
27qm



Poisson chat



4

Dans quelle commune le Souy prend il sa source ?

Dins quaua comuna e podèm trobar era hont deth Soi ?

a) Gayan


Gajan

b) Lourdes

Lorda

c) Ossun

Aussun



GARDON



5

Autrefois, quel produit utilisait on pour faire la lessive ?

Bèth temps a, qu'empleguèm un producte tà hér la bugada. Eth quau ?

- a) la fougère**
era hoguèra
- b) la cendre**
era cier
- c) la laine de mouton**
era lana der'owelha
- d) le sel**
era sau



6

Parmi ces poissons, lesquels sne trouve t on pas dans le Mardaing ?

Quaus peishs ne podèm pas trobar en eth Mardaing ?

- | | |
|---|--|
| a) la truite fario
<i>era trueita fariò</i> | d) le saumon
<i>eth saumon</i> |
| b) le vairon
<i>eth pesquit o rabesan</i> | e) la loche franche
<i>eth barbasan</i> |
| c) le chevesne
<i>eth cabòç</i> | f) la lamproie de Planer
<i>era lampresa de Planèr</i> |



7

Avec quel type de roche est fabriqué le tablier du pont ?

Quina mena de pèira ei emplegada tà bastir eth davantau deth pont ?

- a) **du calcaire**
eth calcari
- b) **du marbre**
eth marme
- c) **du schiste**
eth sistre



Chevesne



9

10

8

7

5

4

6

risier

Tort

GRIC

St. épur.

320

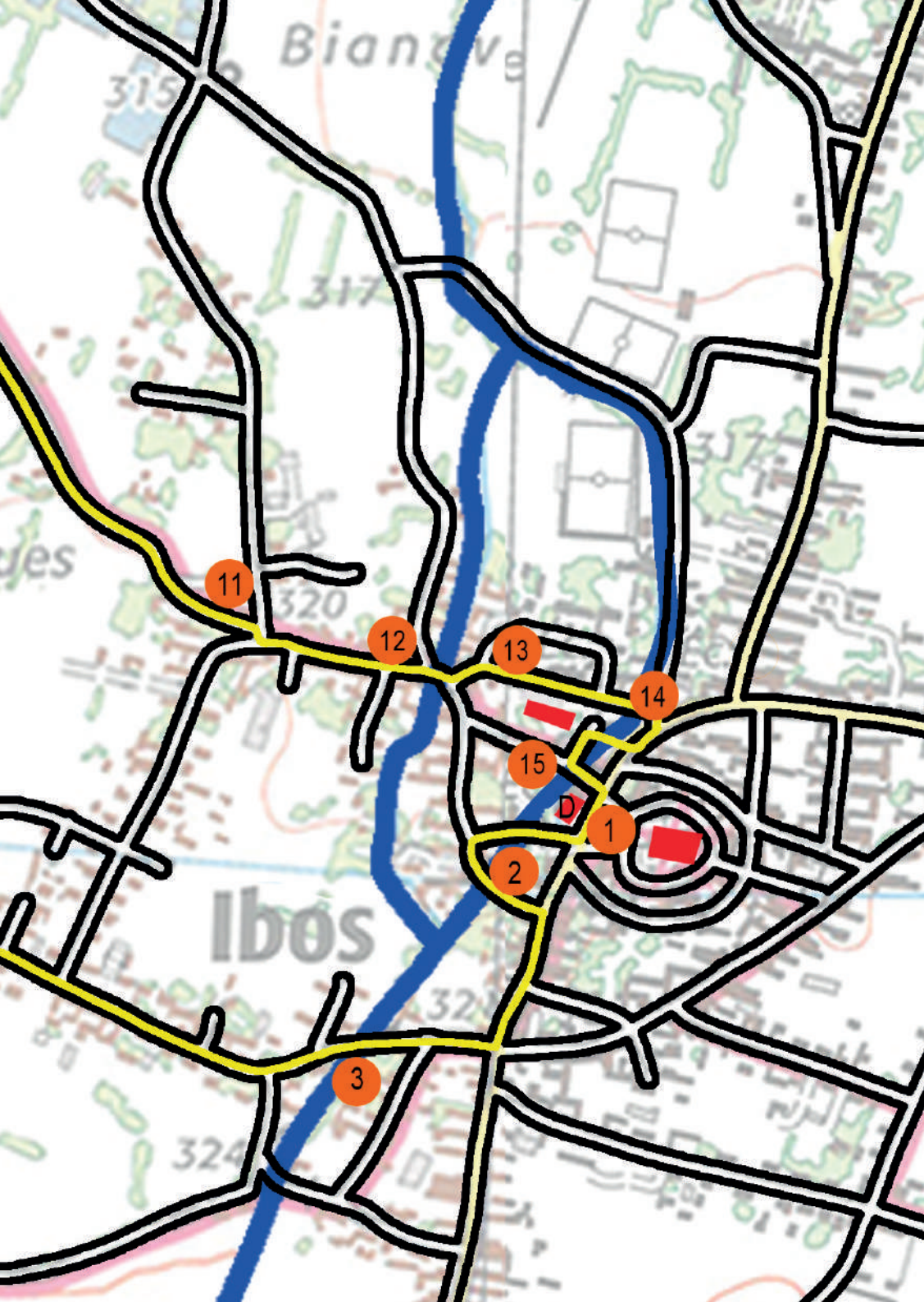
Cap de las Sègu

arnière

la Passade

Fray

le



Biancove

315

317

11

320

12

13

14

15

1

2

3

Ibos

32

324

D




8

Il y a 150 ans des élus imaginaient qu'on pourrait dévier une partie de l'eau du Gave de Pau pour alimenter la plaine de l'Adour de la région de Tarbes.

Desempuish mei de 150 ans, quauques elejuts que's pensan a desviar ua partida der'aiga deth Gave de Pau tà aigar era plana der'Ador e'eth parçan de Tarba.

a) vrai
vertat

b) faux
faus





9

Parmi ces cours d'eau lesquels ne se trouvent pas sur la commune d'Ibos ?

Quaus arrius e ne's tròban pas suth vilatge d'Ibòs ?

- | | |
|---------------------------------------|--|
| a) Souy
<i>Soi</i> | e) Rieutor
<i>Arriu Tòrt</i> |
| b) Mardaing
<i>Mardaing</i> | f) Géline
<i>Jelina</i> |
| c) Adour
<i>Ador</i> | g) Echez
<i>Eches</i> |
| d) Gabas
<i>Gabàs</i> | |



10

Parmi ces 5 arbres, lequel n'est pas spécifique des bords de cours d'eau ?

Quaus arbes ne son pas especifics deth ras der'aiga ?

a) le saule blanc

eth aubar blanc

b) l'aulne

eth vèrnhe

c) le frêne

eth hrèisho

d) le sapin

eth avet

e) le peuplier

eth pìbol



Combien de moulins y avait il à Ibos ?

Quantes molins e i avèva a Ibos ?

- a) 1
- b) 3
- c) 5



BRÈME



12

Mettez dans l'ordre ces cours d'eau qui sont affluents l'un de l'autre :

Arrenga eths arrius de qui son affluents eths uns deths autes :

a) Echez

Eches

b) Mardaing

Mardaing


c) Adour

Ador

d) Souy

Soi

PERCHE





13

Rieu Tort (ou Rieutord) est un nom d'origine gasconne, quelle est sa signification ?

Qué vòu díser « Rieu Tort » ou « Rieutord » escriut atau en francés ?

- a) **Vieux pont**
eth vielh pont
- b) **Rivière tortueuse**
un arriu de qui ei tòrt
- c) **Tortue rouge**
ua tortuga arroia




14

La grenouille est elle la femelle du crapaud ?

Era graulha e ei era hèmia deth harri ?

- a) **oui**
vertat
- b) **non**
faus



TANCHE



15

Quelle est la différence entre un cours d'eau et un canal ?

Quina ei era diferença entre un arriu e un agau ?

a) le cours d'eau est naturel et le canal est artificiel

un arriu qu'ei naturau e un agau qu'estó creat peth òmi, qu'ei artificiau.

b) il y a des poissons dans un cours d'eau mais pas dans un canal

que i a peishs dins un arriu mes ne n'i a pas dins un agau



Réponses

1. On compte environ 35 ponts, ce qui signifie que les cours d'eau sont nombreux et qu'il y a nécessité de les traverser à de nombreux endroits.

2. La roulante est la meule supérieure qui est relée à la turbine en passant à travers la dormante qui est fixe.

3. Le Mardaing prend sa source à Bartrès et se jette dans le Souy à Bordères-sur-l'Echez.

4. Le Souy prend sa source à Ossun et sa confluence avec l'Echez se trouve à Gayan.

5. Les cendres de bois contiennent de la potasse ainsi que du carbonate de sodium. Ce mélange est idéal pour venir à bout des tâches sur vos vêtements.

6. On ne trouve pas le saumon qui vit plutôt dans l'Adour maritime.

7. Le shiste est une roche à feuillets plats, historiquement utilisée pour les toitures, les ponts et les murs des maisons. Une carrière toujours en activité se trouve à Labassère, à 30 km de Ibos.

8. En effet, la monographie de l'instituteur rédigée en 1887 évoque ce projet.

9. La commune possède 5 cours d'eau mais l'Adour et le Gabas n'en font pas partie.

10. Le sapin est un arbre de montagne mais on trouve souvent le saule, l'aulne, le frêne et le peuplier.

11. On comptait 3 moulins le moulin Birou, le moulin Cassagnet et le moulin Barbe (tous deux en activité pendant la 2^{de} guerre mondiale).

- témoignages des familles des élèves -

12. Le Mardaing est un affluent du Souy qui est lui même un affluent de l'Echez qui est lui même un affluent de l'Adour.

13. En occitan, Rieu Tort signifie rivière tortueuse.

14. Non, le mâle de la grenouille s'appelle mâle de la grenouille et on peut appeler crapau de la femelle du crapaud.

15. Les cours d'eau de Ibos ressemblent parfois à des canaux mais ce sont des cours d'eau car ils ont une source et qu'il n'ont pas été construits par les hommes.

anguille

